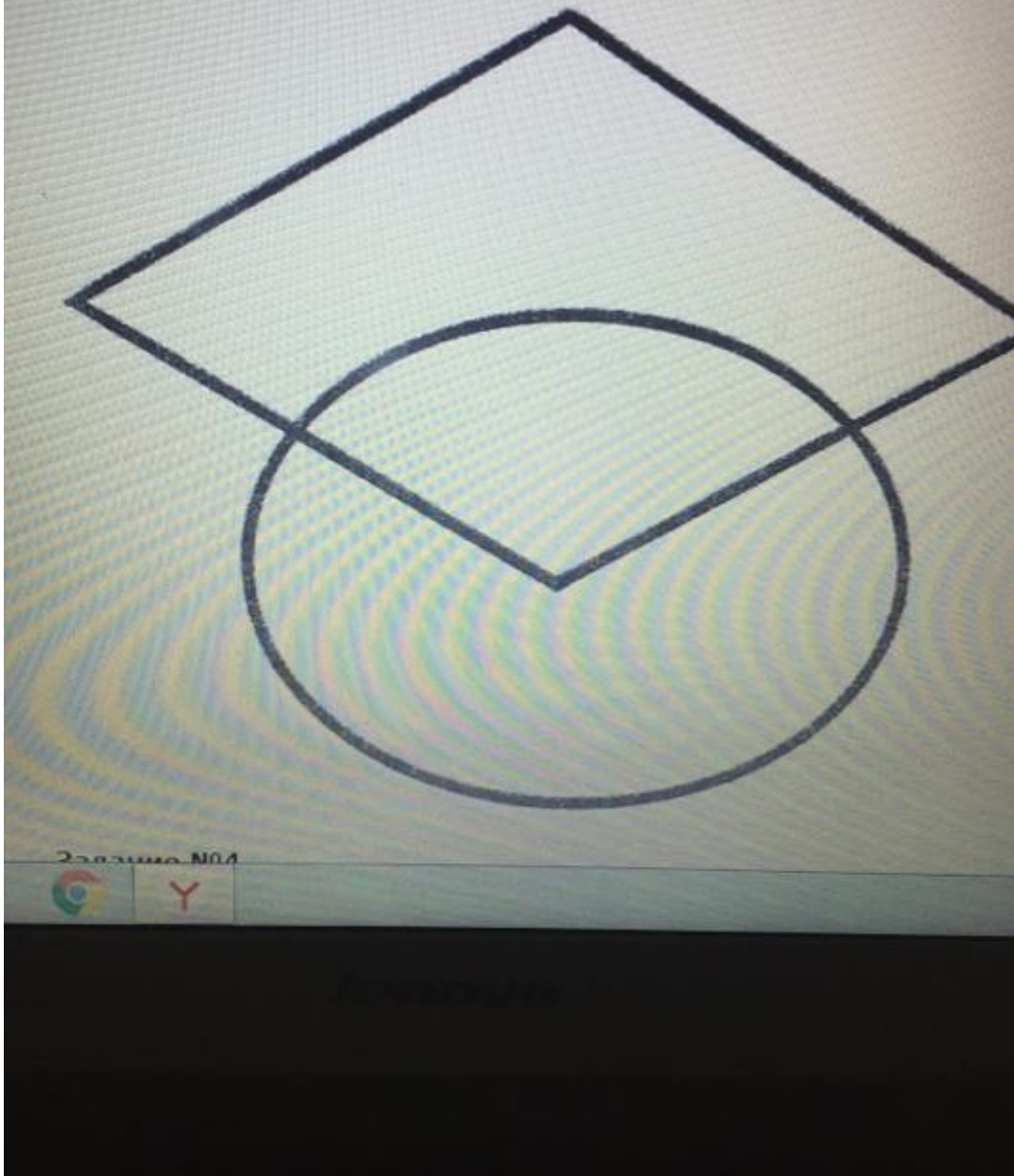


### Задание №3

Раскрась фигуры так, чтобы овал лежал на ромбе.



Все задания по математике для ребенка 6-7 лет. Тема: «Геометрические фигуры».  
1 Раскрась фигуру так, чтобы овал лежал в ромбе. 2 Нарисуй любую геометрическую фигуру с углами, посчитай у неё углы и напиши цифрой. 3 Нарисуй предметы, которые похожи на квадрат. Сначала надо нарисовать эти геометрические фигуры, а потом раскрасить фигуру так, чтобы овал лежал в ромбе. Раскрасить можно любым цветом.

2. Задание. Нужно нарисовать любую геометрическую фигуру с углами, посчитать у фигуры углы и записать цифрой.

3. Задание. Нужно нарисовать предметы, которые похожи на квадрат.




Задание для детей 6-7 лет. Тема «Весна». 1.Задание «Составить рассказ по сюжетной картинке».

аgalatovo.vsevobr.ru Презентация PowerPoint Сохранить Напечатать

По ширине окна Оглавление 1 из 10

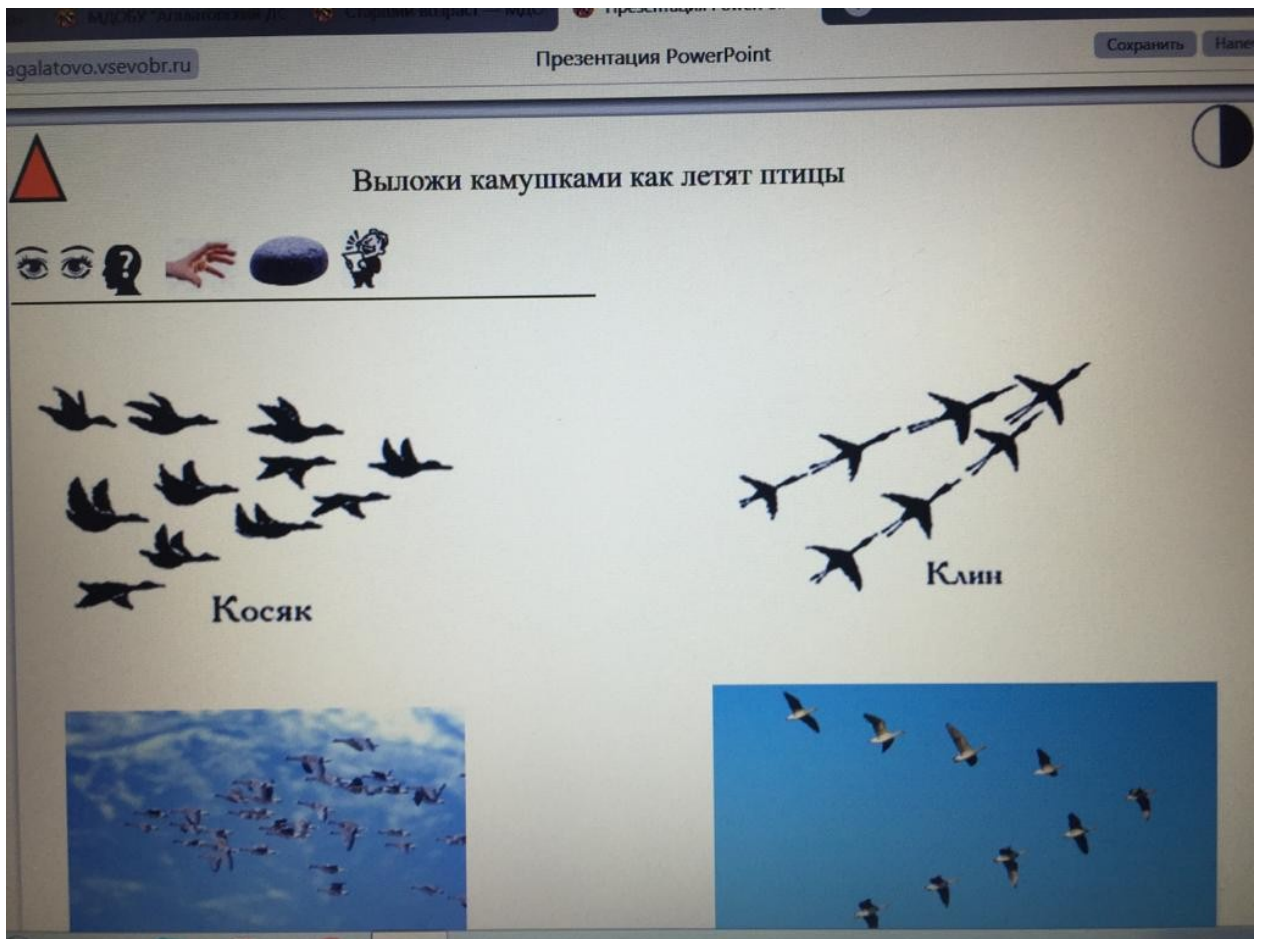
**ЦЕЛЬ ИГРЫ-СОБРАТЬ ИЗ СЕМИ ЧАСТЕЙ КВАДРАТ,  
СИЛУЭТ ПОХОЖИЙ НА ПТИЦУ.**

ИГРА «ТАНГРАМ»-  
ГЕОМЕТРИЧЕСКАЯ ГОЛОВОЛОМКА В КОТОРУЮ В  
ТЕЧЕНИИ МНОГИХ ВЕКОВ ИГРАЮТ И ДЕТИ, И  
ВЗРОСЛЫЕ, СОСТОЯЩАЯ ИЗ СЕМИ ТАНОВ-  
ГЕОМЕТРИЧЕСКИХ ФИГУР, ПОЛУЧЕННЫХ  
ДЕЛЕНИЕМ КВАДРАТА НА СЕМЬ ЧАСТЕЙ-ДВА  
БОЛЬШИХ ТРЕУГОЛЬНИКА, ДВА МАЛЕНЬКИХ,  
ТРЕУГОЛЬНИКА, МАЛЕНЬКИЙ КВАДРАТ И  
ЧЕТЫРЁХУГОЛЬНИК.



Taskbar icons: Internet Explorer, Firefox, Opera, Skype, Yandex, Google Chrome, Yandex

2.Задание. Игра «Танграм. Птица» (сделанная своими руками).



3.Задание. Посмотри на картинку и выложи камушками, или же другими мелкими предметами «Как летят птицы?».

Все эти задания на выбор родителям.